


BỘ KHOA HỌC VÀ CÔNG NGHỆ  
CỤC SỞ HỮU TRÍ TUỆ

ĐỀ BÀI KIỂM TRA  
MÔN: KIỂU DÁNG CÔNG NGHIỆP

Thời gian làm bài: 180 phút  
(Không kể thời gian phát đề)

Câu 1: (1,5 điểm)

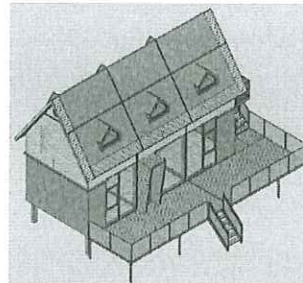
Cho các hình ảnh cụ thể dưới đây, Anh/Chị hãy chỉ ra đối tượng nào có thể là kiểu dáng công nghiệp, đối tượng nào không phải là kiểu dáng công nghiệp theo quy định pháp luật sở hữu trí tuệ hiện hành của Việt Nam.



1. Nến



2. Nút giao thông




3. Nhà hàng nổi



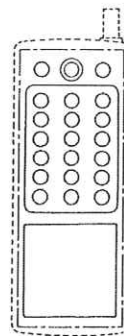
4. Giao diện màn hình



5. Bức tranh



6. Kẹo



7. Cụm nút bấm  
của máy bộ đàm

Rollinis


8. Lô-gô



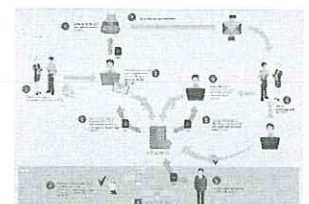
9. Cục tẩy



10. Đồ lưu niệm



11. Gối




12. Sơ đồ kinh doanh

Kỳ kiểm tra nghiệp vụ đại diện sở hữu công nghiệp 2022



13. Gạch ốp lát



14. Vành mặt  
đồng hồ



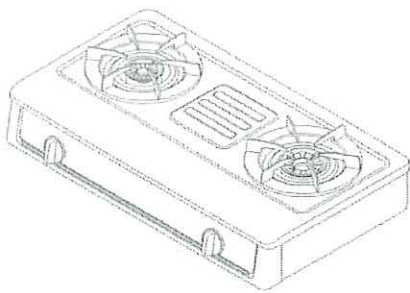
15. Áo quan

## Kỳ kiểm tra nghiệp vụ đại diện sở hữu công nghiệp 2022

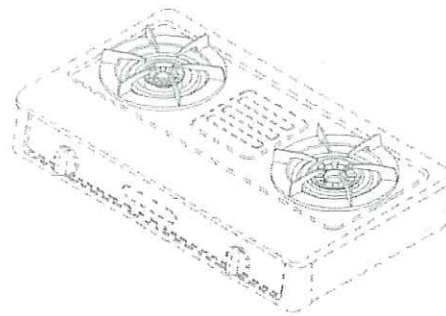
### Câu 2: (2 điểm)

Công ty C đã nộp đơn đăng ký kiểu dáng công nghiệp tại Cục Sở hữu trí tuệ cho bếp ga B1 (đơn Đ1) với yêu cầu hưởng quyền ưu tiên trên cơ sở đơn đầu tiên đã nộp trực tiếp tại Cơ quan sở hữu trí tuệ châu Âu (EUIPO) vào ngày 12/7/2022 (đơn UT1). Ngày 23/12/2022, Công ty C dự định nộp đơn đăng ký kiểu dáng công nghiệp cho sản phẩm núm vặn của bếp ga B2 với yêu cầu hưởng quyền ưu tiên trên cơ sở đơn UT1 và nộp đơn đăng ký kiểu dáng công nghiệp cho sản phẩm bếp ga B3 với yêu cầu hưởng quyền ưu tiên trên cơ sở đơn đầu tiên đã nộp trực tiếp tại EUIPO vào ngày 12/7/2022 (đơn UT2).

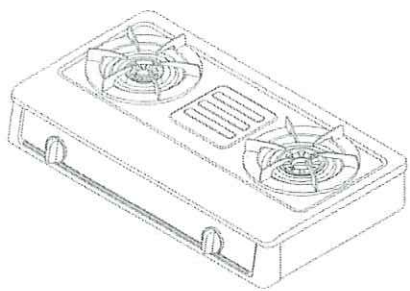
Anh/Chị hãy nhận định các đối tượng núm vặn bếp ga B2 và bếp ga B3 có khả năng được bảo hộ tại Việt Nam hay không. Giải thích cho nhận định của Anh/Chị.



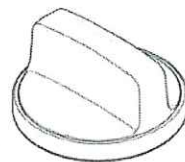
Đơn UT1 – Bếp ga



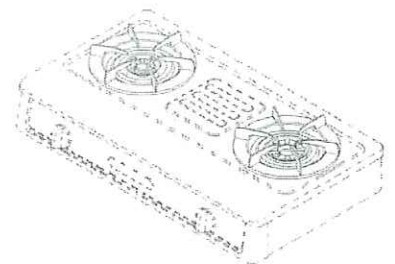
Đơn UT2 – Bếp ga



Kiểu dáng công nghiệp bếp ga B1



Kiểu dáng công nghiệp núm vặn của bếp ga B2



Kiểu dáng công nghiệp bếp ga B3

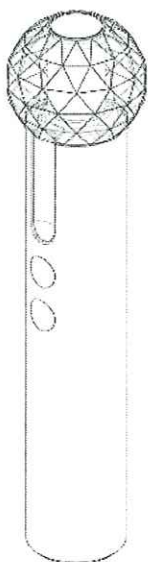
## Kỳ kiểm tra nghiệp vụ đại diện sở hữu công nghiệp 2022

### Câu 3: (2,5 điểm)


Ngày 05/9/2022 công ty Y đã giới thiệu công nghệ mới trong báo cáo khoa học (báo cáo KH1). Báo cáo KH1 không làm rõ về một bàn chải đánh răng điện cụ thể nào mà chỉ tập trung làm rõ phần tay cầm bàn chải đánh răng điện BC1. Ngày 22/9/2022, công ty Y tiếp tục giới thiệu công nghệ mới trong báo cáo khoa học khác (báo cáo KH2). Báo cáo KH2 không làm rõ về một bàn chải đánh răng điện cụ thể nào mà chỉ tập trung làm rõ phần đầu bàn chải đánh răng điện BC2. Cũng trong ngày 22/9/2022, công ty Y còn giới thiệu công nghệ mới trong báo cáo khoa học khác (báo cáo KH3). Báo cáo KH3 không làm rõ về một bàn chải đánh răng điện cụ thể nào mà chỉ tập trung làm rõ phần tay cầm bàn chải đánh răng điện BC3.

Ngày 20/10/2022, công ty Y đã nộp đơn đăng ký kiểu dáng công nghiệp cho đối tượng bàn chải đánh răng điện BC4. Công ty Y dự định đăng ký kiểu dáng công nghiệp cho đối tượng bàn chải đánh răng điện BC5 kèm theo yêu cầu hưởng ngoại lệ đối với tính mới trên cơ sở kết hợp các báo cáo KH2 và báo cáo KH3, và đăng ký kiểu dáng công nghiệp cho đối tượng tay cầm bàn chải đánh răng điện BC6 kèm theo yêu cầu hưởng ngoại lệ đối với tính mới trên cơ sở báo cáo KH1.

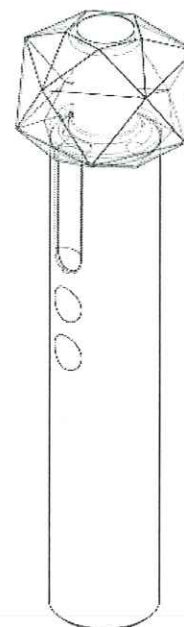
Anh/Chị hãy cho biết các đối tượng BC5 và BC6 có khả năng được bảo hộ tại Việt Nam không. Giải thích cho nhận định của Anh/Chị.



Tay cầm bàn chải đánh răng điện BC1 (báo cáo khoa học KH1)



Đầu bàn chải đánh răng điện BC2 (báo cáo khoa học KH2)

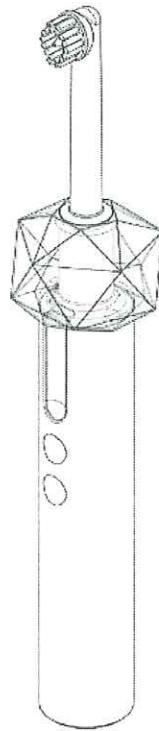


Tay cầm bàn chải đánh răng điện BC3 (báo cáo khoa học KH3)

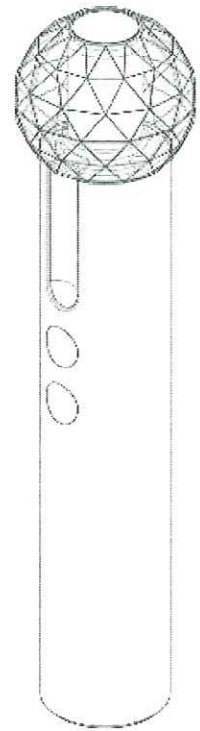
Kỳ kiểm tra nghiệp vụ đại diện sở hữu công nghiệp 2022



Kiểu dáng công nghiệp bàn chải đánh răng điện BC4



Kiểu dáng công nghiệp bàn chải đánh răng điện BC5



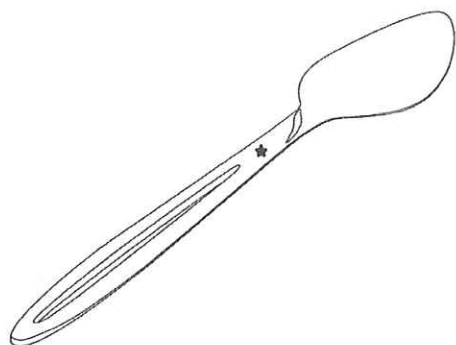
Kiểu dáng công nghiệp tay cầm bàn chải đánh răng điện BC6

## Kỳ kiểm tra nghiệp vụ đại diện sở hữu công nghiệp 2022

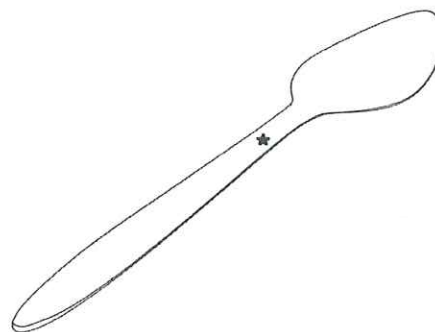
### Câu 4: (2 điểm)

Công ty Z có bốn đối tượng thìa T1, thìa T2, thìa T3 và đĩa T4 như các hình dưới đây. Công ty Z dự định nộp hai đơn đăng ký kiểu dáng công nghiệp cho các đối tượng này. Đơn thứ nhất bao gồm hai phương án thìa T1 và thìa T2. Đơn thứ hai bao gồm một bộ sản phẩm thìa T3 và đĩa T4.

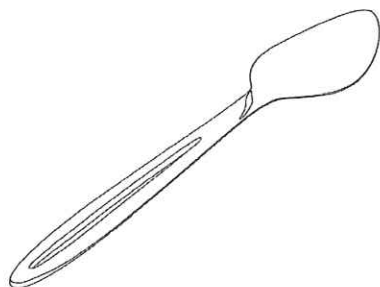
Anh/Chị hãy đánh giá cách thức nộp đơn đối với bốn đối tượng nêu trên của công ty Z có phù hợp với các quy định pháp luật hiện hành để có thể bảo hộ được đồng thời cả bốn đối tượng nêu trên không. Trong trường hợp cách thức của công ty Z nêu trên không giúp bảo hộ đồng thời cả bốn đối tượng thì có cách thức nào khác để thực hiện điều này không. Anh/Chị hãy chỉ ra cách thức cụ thể này và giải thích cho ý kiến của mình.



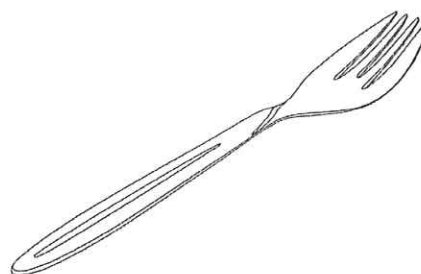
Kiểu dáng công nghiệp thìa T1



Kiểu dáng công nghiệp thìa T2



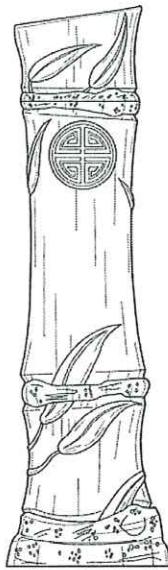
Kiểu dáng công nghiệp thìa T3



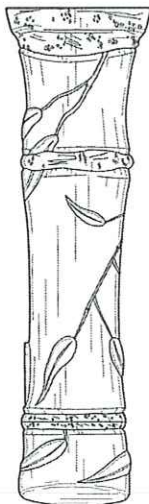
Kiểu dáng công nghiệp đĩa T4

**Câu 5:** (2 điểm)

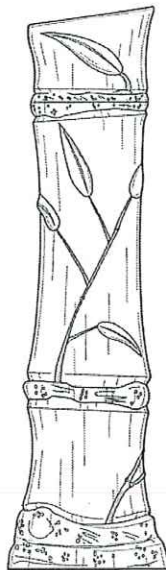
Để chuẩn bị hồ sơ nộp đơn đăng ký bảo hộ kiểu dáng công nghiệp cho đối tượng chai, Người nộp đơn cung cấp bộ bản vẽ như dưới đây. Anh/Chị hãy đặt tên các hình, chỉ ra những thiếu sót của bộ bản vẽ và cách khắc phục những thiếu sót đó (nếu có) để bộ bản vẽ đáp ứng các yêu cầu về hình thức theo quy định hiện hành. Giả định rằng, có duy nhất hình vẽ số 1 là hình chiếu từ phía trước của kiểu dáng công nghiệp trong bộ bản vẽ là đã đáp ứng các yêu cầu đối với bản vẽ để yêu cầu bảo hộ kiểu dáng công nghiệp.



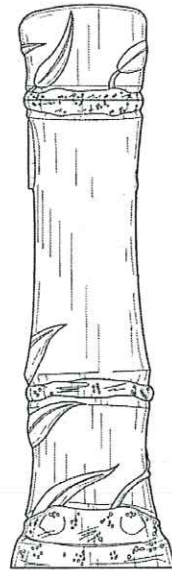
Hình 1 – Hình chiếu từ phía trước



Hình 2

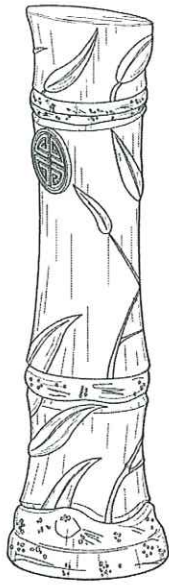


Hình 3

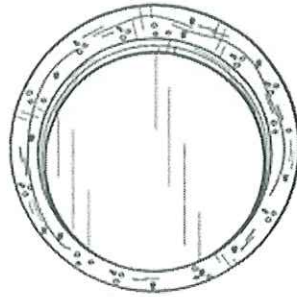


Hình 4

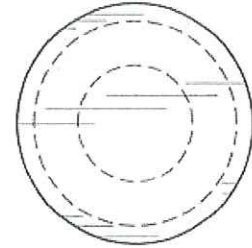
Kỳ kiểm tra nghiệp vụ đại diện sở hữu công nghiệp 2022



Hình 5



Hình 6



Hình 7

\*) Đề thi gồm có 08 trang.

\*) Thí sinh sử dụng các quy định hiện hành để làm bài thi.

**HẾT**

A handwritten signature in blue ink, located at the bottom right corner of the page. The signature is stylized and appears to be a name.